

TRAVAIL – CP (Classe Fabienne)

Jeudi 4 juin – Vendredi 5 juin : Français

1. Livre de lecture : « Un heureux événement » p. 128.129 : le son « gn »

➤ Description de l'image :

- Où se déroule la scène ? (*dans un hôpital, une clinique ou une maternité*)
- Comment le sait-on ? (*le lit, l'infirmière*)
- Quelles sont les personnes présentes ? (*Hugo, Taoki, les parents d'Hugo, un bébé et une infirmière*)
- Pourquoi sont-ils à l'hôpital ? (*la maman d'Hugo a eu un bébé*)
- Que fait le papa d'Hugo ? (*il filme le bébé*)
- Quelle tête fait Hugo ? (*il est content et a l'air intimidé par le bébé*)
- Que fait Taoki ? (*il vole dans la pièce, il tient à la main une cigogne en peluche*)

- **Dessins sous l'illustration page 128** : agneau – anneau ; peigne – bonnet ; trognon – dragon ; poignée – poing + lire les syllabes.

En vidéos :

<https://www.youtube.com/watch?v=VRJ4sc-PG38>

(les alphas) : <https://www.youtube.com/watch?v=WawkA64E0Ng>

2. Lis la fiche n° 49 et les mettre dans votre porte-vues.

3. Lis dans le livre page 128-129 (mots, phrases) et l'histoire de Taoki (vendredi)

4. Cherche sur l'image des dessins où l'on entend le son « gn » : cigogne – trognon – peignoir – peigne.

5. Exercices n° 1 à 11 sur le fichier pages 38 à 40

n°1 : Mots : *peigne, ligne, peignoir, genou, bonnet, trognon, médaille, cygne.*

n°2 : *oignon, araignée, baignoire, champignon.*

n°3 : *mettre en fluo le son (gn)*

n°4 : 1 couleur pour chaque mot

n°5 : 1^{ère} colonne : *des lasagnes, une consigne, une châtaigne.* 2^{ème} colonne : *un gilet, un genou, la neige.* 3^{ème} colonne : *un ogre, une guêpe, une figure.*

n°7 : *araignée, ligne, poignée*

5. Ecriture :



+ fiche écriture : (vendredi) : au/ain

6. Prépare la dictée : (jeudi) : je remets à nouveau ces mots car ils sont difficiles à retenir !

quinze – seize – dix-sept, dix-huit, dix-neuf, vingt

➤ **Dictée vendredi** sur ton ardoise ou sur une feuille.

Mathématiques

1. Lecture de nombres : entoure-les à chaque fois que tu y arrives.

57. 14. 68. 44. 75. 86. 80. 83. 21. 33. 26. 12. 72. 70. 66. 11.

2. Sudoku :

| | | | | | | | | |
|---|---|---|---|---|---|---|---|---|
| 4 | 8 | 6 | | 5 | 1 | 2 | 3 | |
| | | 2 | | 7 | | | | 4 |
| | | 5 | 8 | 4 | | 1 | | 9 |
| | | | 5 | 6 | 8 | | 9 | |
| 9 | | 4 | | | | 7 | | |
| 3 | 6 | 8 | | 9 | 4 | 5 | 1 | 2 |
| | | 9 | 1 | 3 | | | 2 | 8 |
| | | 3 | | 8 | 5 | 9 | 7 | |
| 8 | 1 | 7 | 6 | | | | 4 | |

3. Calcule ces additions

$22 + 3 = \underline{\quad}$

$24 + 7 = \underline{\quad}$

$29 + 3 = \underline{\quad}$

$9 + 0 = \underline{\quad}$

$3 + 1 = \underline{\quad}$

$33 + 5 = \underline{\quad}$

$18 + 5 = \underline{\quad}$

$43 + 2 = \underline{\quad}$

$8 + 0 = \underline{\quad}$

$38 + 4 = \underline{\quad}$

4. Additions à trous : 39 + combien = 39 ?

$$30 + \underline{\quad} = 39$$

$$26 + \underline{\quad} = 31$$

$$7 + \underline{\quad} = 8$$

$$26 + \underline{\quad} = 28$$

$$10 + \underline{\quad} = 13$$

$$40 + \underline{\quad} = 42$$

$$37 + \underline{\quad} = 45$$

5. Additions sans retenue :

$$\begin{array}{r} 54 \\ + 34 \\ \hline \\ \hline \end{array}$$

$$\begin{array}{r} 65 \\ + 33 \\ \hline \\ \hline \end{array}$$

$$\begin{array}{r} 55 \\ + 11 \\ \hline \\ \hline \end{array}$$

$$\begin{array}{r} 45 \\ + 44 \\ \hline \\ \hline \end{array}$$

$$\begin{array}{r} 81 \\ + 10 \\ \hline \\ \hline \end{array}$$


$$\begin{array}{r} 45 \\ + 30 \\ \hline \\ \hline \end{array}$$


$$\begin{array}{r} 57 \\ + 31 \\ \hline \\ \hline \end{array}$$

$$\begin{array}{r} 65 \\ + 4 \\ \hline \\ \hline \end{array}$$

$$\begin{array}{r} 74 \\ + 22 \\ \hline \\ \hline \end{array}$$

6. Problèmes :

| | | |
|---|-------------------------|----------|
|  | PROBLEMES CP (2) | 7 |
| <p>Mamie a eu 4 nouveaux chats. Cela lui en fait 9 au total.
Combien avait-elle de chats avant ?</p> | | |
| | | |

| | | |
|---|-------------------------|----------|
|  | PROBLEMES CP (2) | 8 |
| <p>Léo a 9 billes et Antoine en a 12. Ils mettent leurs billes ensemble pour tout donner à leur petit frère.
Combien de billes reçoit-il ?</p> | | |
| | | |



PROBLEMES CP (2)

9

Papy a planté 3 rangées de 5 tulipes chacune.

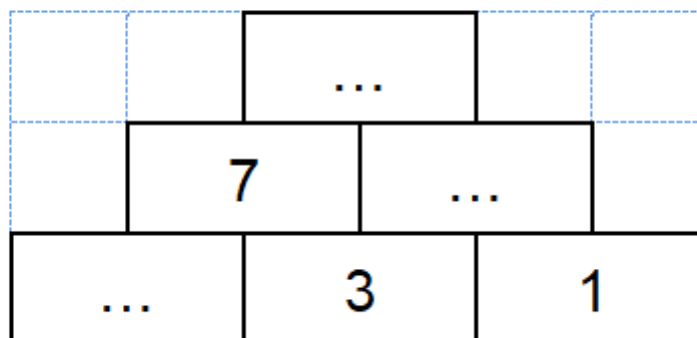
Combien de tulipes a-t-il plantées ?

7.Pyramide : révisions ! Normalement c'est super facile maintenant !!!



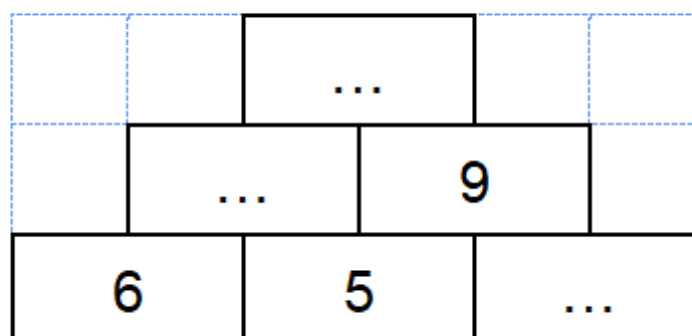
Pyramide ★

20



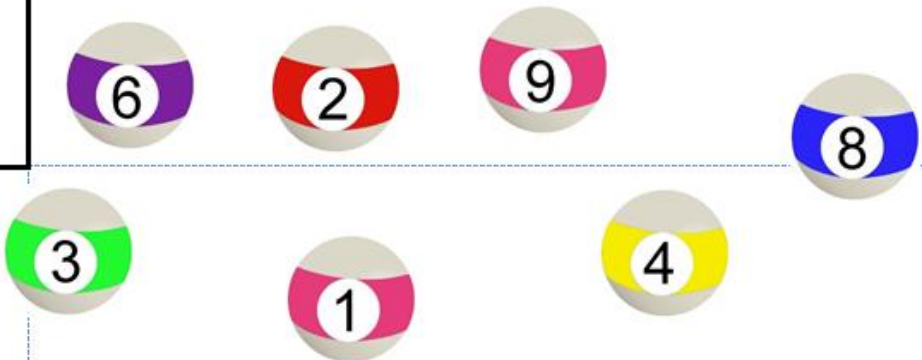





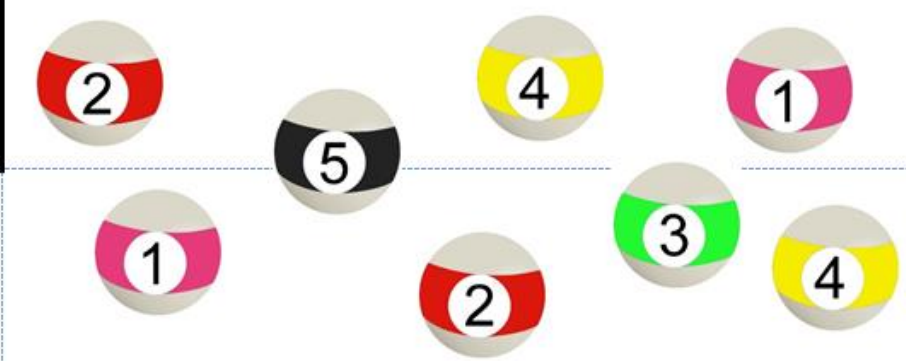
Pyramide ★

21



8. Billard : révisions

| | | |
|---|--|-----------|
|  | Le Billard ★ | 10 |
|  10
 3 |  | |

| | | |
|--|---|-----------|
|  | Le Billard ★ | 12 |
|  9
 3 |  | |

Eveil

2. Découverte du monde : fichier « Questionner le temps, l'espace) (fichier rose) :

Leçon 21 : « La vie loin de chez moi » Pages 42.43

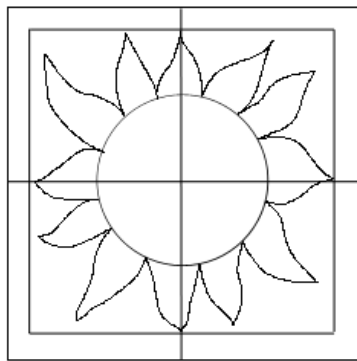
C'est pas sorcier : « Quand un pays a faim » : <https://www.youtube.com/watch?v=6Yww49laTYM>

3. Anglais :


Les repas et les aliments : <https://www.youtube.com/watch?v=vgKyisC2XY8>

4. Arts visuels : soleil contrasté : **à terminer et un coloriage si vous vous ennuyez !**

http://artsvisuelsecole.free.fr/dossier9_paysage/paysage_soleil.html



4. Dessiner les rayons du soleil.



5. Choisir deux couleurs de valeurs différentes.



6. Colorier en inversant les deux couleurs par rapport aux axes.

