



# 4 côtés



rectangle



losange



carré



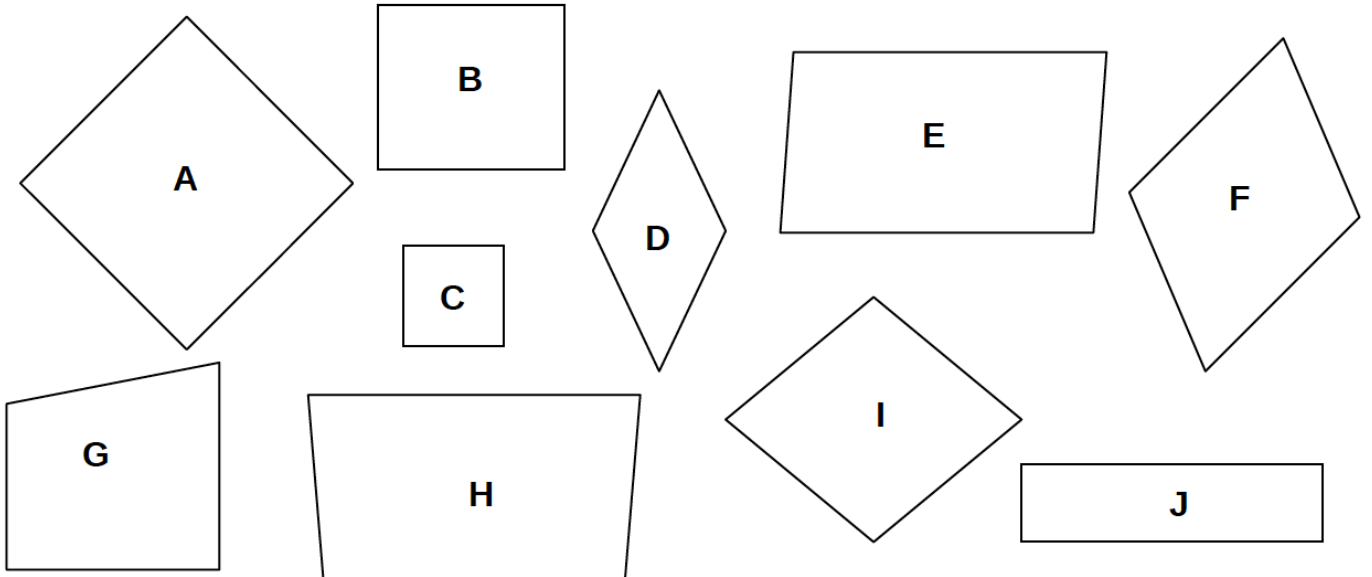
parallélogramme



<http://laclassebleue.fr>

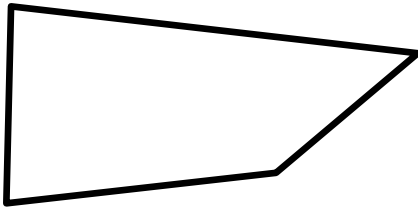
# QUADRILATERES

1 Classe ces figures dans la bonne colonne.



carrés	rectangles	losanges	parallélogrammes	trapèzes

# Les quadrilatères

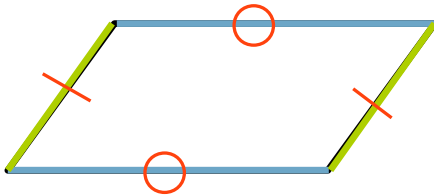


**Un quadrilatère quelconque**



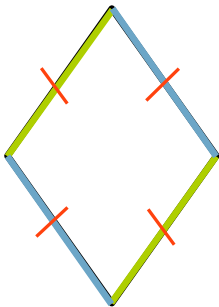
**Un trapèze**

- 2 côtés *parallèles*



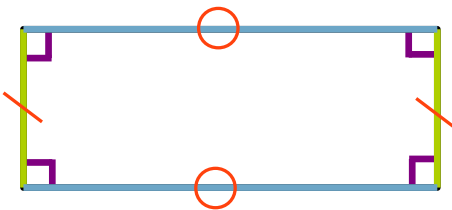
**Un parallélogramme**

- Côtés *parallèles* 2 à 2  
- Côtés opposés *égaux*



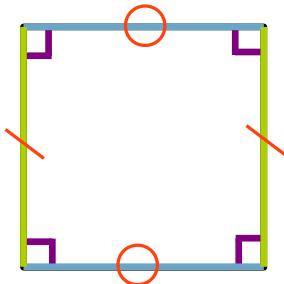
**Un losange**

- Côtés *parallèles* 2 à 2  
- 4 côtés *égaux*.



**Un rectangle**

- Côtés *parallèles* 2 à 2  
- Côtés opposés *égaux*  
- 4 angles *droits*



**Un carré**

- Côtés *parallèles* 2 à 2  
- 4 côtés *égaux*  
- 4 angles *droits*

**2 Qui suis-je ?**

① Mes côtés sont parallèles et égaux deux à deux. Je n'ai pas d'angle droit.

Je suis .....

② Mes 4 côtés sont égaux, mes diagonales se coupent en formant des angles droits. J'ai 4 angles droits.

Je suis .....

③ Deux de mes côtés sont parallèles.

Je suis .....

**3 Trace les figures géométriques demandées.**

➤ Trace un rectangle de 4 cm de largeur et de 7 cm de longueur.

➤ Trace un carré de 6 cm de côté.